

Medvědí stezka


(Ovesná – Jelení Vrchy – Černý Kříž)



Proč se tato naučná stezka jmenuje „Medvědí“?




Jak vznikly kamenné útvary
na této naučné stezce?



Většina těchto kamenných útvarů má svůj název. Vypište alespoň 5 z nich.



Masiv Třístoličníku a Plechého utváří
světlá dvojslídňá hrubozrnná žula,
nazývaná „Plekenštejská”.
Jak vzniklo toto pojmenování?



Do kterého období spadá stáří žul na Šumavě?



Mezi které horniny patří žula? Jak vznikl tento druh hornin?



Která z fotografií znázorňuje žulu?
Zakroužkujte správnou odpověď.





Během druhé poloviny 18. století začala masivní těžba původních šumavských smíšených pralesů. Nově vysázené porosty již byly převážně smrkové. Co bylo důvodem pro tento rozsáhlý úbytek původních porostů?

.....

.....



Za jakým účelem bylo vybudováno Jelení jezírko?

.....

.....



Fotografie znázorňuje vstupní portál tunelu Schwarzenberského plavebního kanálu. V dnešní době je tunel významným zimovištěm netopýrů na Šumavě. Znáte nějaké druhy netopýrů? Vypište je.

.....

.....

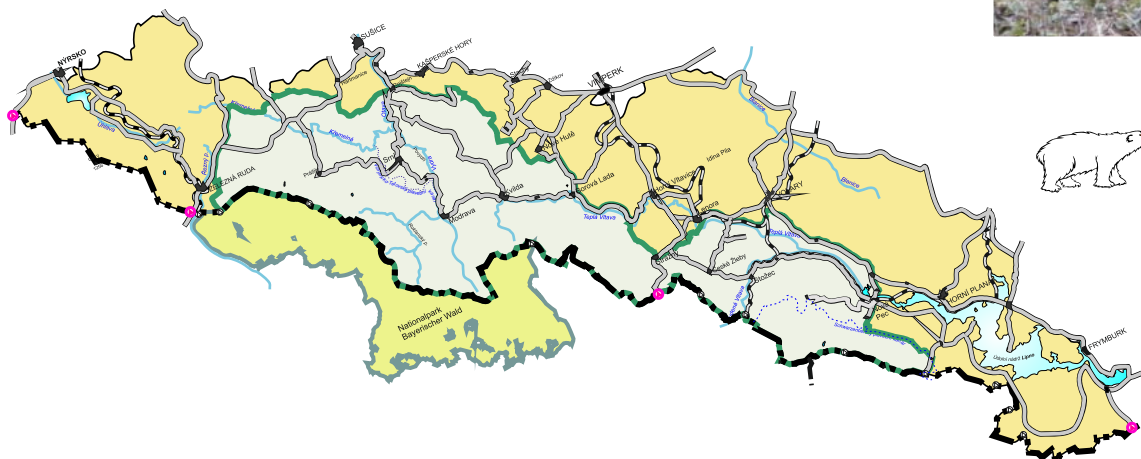


Kdy byl zastřelen poslední šumavský medvěd?

.....



Po které barvě turistické trasy jste šli? Zakroužkujte správnou odpověď.



Označte v mapě místo, kde leží Medvědí stezka.